

令和2年度宮城県公立高等学校入学者選抜（第一次募集）

学力検査問題「社会」正誤表

6 ページ 第四問 3 資料Dタイトル

【誤】 製造品出荷額が全国5位以内の都道府県と…



【正】 製造品出荷額等が全国5位以内の都道府県と…

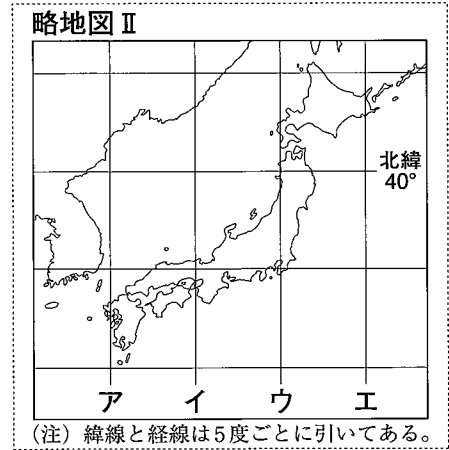
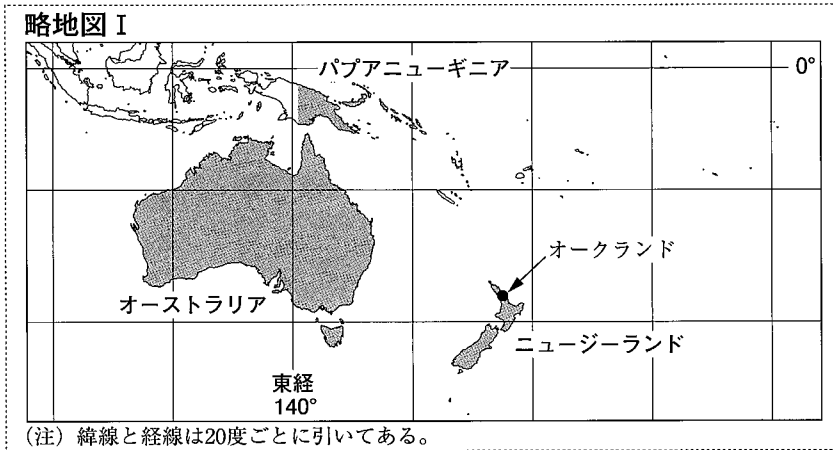
令和 2 年度
公立高等学校入学者選抜

問 題
社 会

(第 3 時 11 : 25 ~ 12 : 15)

第一問 ゆかりさんは、社会科の授業で、「オセアニア州の国々のようすと貿易の特徴」について調べました。次の1～3の問いに答えなさい。

1 ゆかりさんは、略地図Ⅰ、Ⅱを使って、オセアニア州の国々と日本の位置について調べました。あとの(1)、(2)の問いに答えなさい。



(1) ゆかりさんは、オーストラリアを通る経線が、日本も通ることに気がつきました。東経140度の経線を、略地図Ⅱ中のア～エから1つ選び、記号で答えなさい。

(2) ゆかりさんは、オセアニア州の国々と日本の位置について、わかったことをメモに記しました。

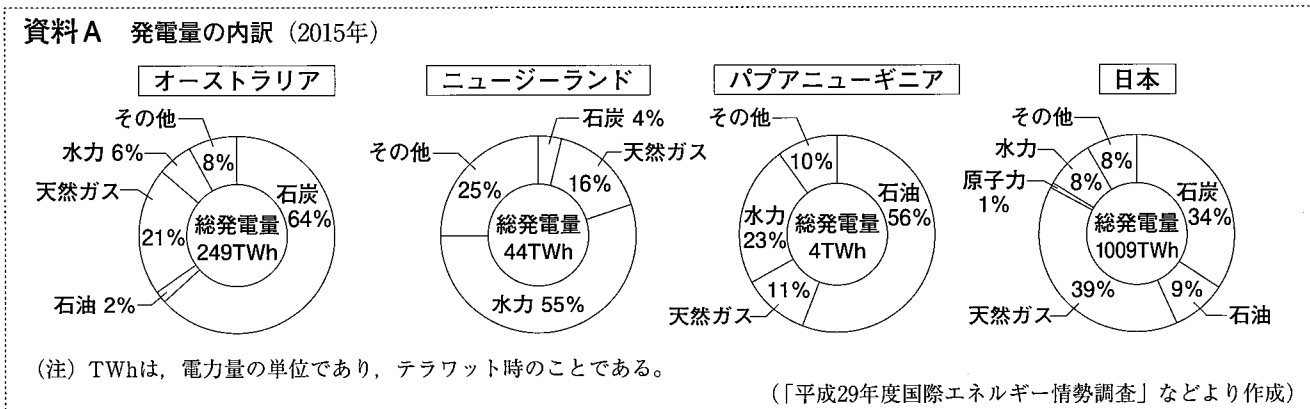
- a □ b にあてはまる国名の組み合わせとして、正しいものを、次のア～エから1つ選び、記号で答えなさい。
- ア a - ニュージーランド b - パプアニューギニア
- イ a - ニュージーランド b - 日本
- ウ a - 日本 b - パプアニューギニア
- エ a - 日本 b - 日本

メモ

○ ニュージーランドと日本を比べると、□ a □の方が、日付が先が変わる。

○ パプアニューギニアと日本を比べると、□ b □の方が、緯度が低い。

2 ゆかりさんは、オセアニア州の国々のなかで、面積が大きい3つの国と日本の発電量の内訳について調べ、資料Aを作成しました。各国の発電量の内訳について述べた文として、正しいものを、あとのア～エから1つ選び、記号で答えなさい。



- ア 鉱産資源による発電量が総発電量に占める割合は、日本が最も高く、オーストラリアが2番目に高い。
- イ 鉱産資源による発電量が総発電量に占める割合は、パプアニューギニアが最も高く、日本が2番目に高い。
- ウ 鉱産資源による発電量が総発電量に占める割合は、ニュージーランドが最も低く、オーストラリアが2番目に低い。
- エ 鉱産資源による発電量が総発電量に占める割合は、ニュージーランドが最も低く、パプアニューギニアが2番目に低い。

3 ゆかりさんは、オセアニア州の国々のなかで、貿易額が大きい2つの国と日本を比べるため、国のようすと貿易について調べ、資料Bを作成しました。次の(1)、(2)の問いに答えなさい。

(1) 資料Bから読みとれることについて述べた文として、正しいものを、次のア～エから1つ選び、記号で答えなさい。

ア オーストラリアは、3つの国のなかで貿易赤字額が最も少ない。

イ ニュージーランドは、3つの国のなかで人口密度が最も高い。

ウ 日本は、3つの国のなかで1人あたりの国内総生産が最も少ない。

エ 輸入額が大きい国ほど、輸入額に占める機械類の割合が高くなる。

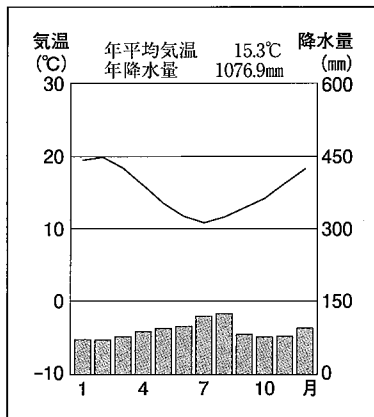
資料B 国のようすと貿易 (2015年)

		オーストラリア	ニュージーランド	日本
面	積 (万km ²)	769	27	38
人	口 (万人)	2,397	453	12,657
国内総生産(億ドル)		12,309	1,734	43,831
貿易額	輸出額(億ドル)	1,884	344	6,248
	輸入額(億ドル)	2,000	366	6,483
おもな貿易品目	輸出品目 〔輸出額に占める割合(%)〕	鉄鉱石 [19.6]	酪農品 [23.6]	機械類 [34.7]
		石炭 [15.2]	肉類 [14.4]	自動車 [21.2]
	輸入品目 〔輸入額に占める割合(%)〕	機械類 [26.3]	機械類 [21.9]	機械類 [24.1]
		自動車 [12.3]	自動車 [12.9]	液化天然ガス [7.3]

(注) 数字は四捨五入している。 (「2017/18世界国勢図会 第28版」などより作成)

(2) ゆかりさんは、ニュージーランドのおもな輸出品目である酪農品に着目して、ニュージーランドの気候と酪農のようすについて調べて資料C～Eを作成し、これらをもとにまとめを作成しました。あとの①、②の問いに答えなさい。

資料C オークランドの気温と降水量



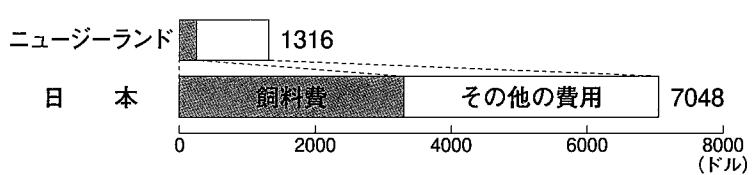
(「理科年表 平成31年」より作成)

資料D 酪農の概況 (2015年)

	牧場・牧草地 (万ha)	乳牛飼育頭数 (万頭)	牛乳生産量 (万t)	おもな飼育方法
ニュージーランド	1,046	649	2,194	牧草地で放牧
日本	61	137	738	牛舎内で管理

(注) 数字は四捨五入している。 (「FAOSTAT」などより作成)

資料E 牛一頭あたりの飼育にかかる費用 (2015年)



(「農畜産業振興機構 畜産の情報」より作成)

まとめ

オークランドは、牧草の生育に適した気候の都市で、ことが特徴です。ニュージーランドには、オークランドのような気候の地域が分布しています。ニュージーランドでは、この気候を生かした酪農が営まれており、ことができます。このことは、ニュージーランドが酪農品を輸出するうえで、有利にはたらく要因の一つだと思いました。

① にあてはまる、ゆかりさんが資料Cから読みとった気候の特徴について述べた文として、最も適切なものを、次のア～エから1つ選び、記号で答えなさい。

- ア 温暖で、冬より夏の降水量が多い
- イ 温暖で、一年を通して適度な降水量がある
- ウ 寒冷で、冬より夏の降水量が少ない
- エ 寒冷で、一年を通して乾燥している

② には、ニュージーランドの酪農の特徴について述べた文が入ります。ニュージーランドの酪農のどのような特徴が酪農品の輸出に有利にはたらくのか、資料D、Eをもとに、あてはまる内容を考えて、簡潔に述べなさい。

第二問 和也さんは、社会科の授業で、「古代から近世までの日本の社会のようすと文学」について調べ、次のような表を作成しました。これを見て、あとの1～5の問いに答えなさい。

	日本の社会のようすと文学に関するおもなことから
古代	大陸から伝わった漢字が使われるようになり、①日本の歴史や神話などが記される。日本の風土や生活に合わせた②国風文化が発展し、かな文字を使った文学作品が生まれる。
中世	各地で③戦乱が起こり、武士の活躍が軍記物語として人々に語り伝えられる。④地方都市や農村で新たな文化が生まれ、御伽草子といわれる絵入りの物語が読まれる。
近世	上方を中心に商業が発達し、 <input type="text" value="a"/> の浮世草子では町人の生活が描かれる。印刷技術が向上して多くの書物が出版され、 <input type="text" value="b"/> のこっけい本などが流行する。

- 下線部①について、『古事記』や『日本書紀』などの歴史書が記された、8世紀前半の日本の社会のようすについて述べた文として、最も適切なものを、次のア～エから1つ選び、記号で答えなさい。
 ア 大和政権によって各地に古墳がつけられた。 イ 須恵器や絹織物の製造技術が伝えられた。
 ウ 唐にならって律令に基づく政治が行われた。 エ 政治を立て直すため都が京都に移された。
- 下線部②について、国風文化が発展した、11世紀半ばの日本のできごとについて述べた文として、最も適切なものを、次のア～エから1つ選び、記号で答えなさい。
 ア 朝鮮半島を経由して伝わった仏教が皇族や豪族に広がり、法隆寺などの寺院が建てられた。
 イ 仏教の力によって国家を災害などから守るため、国ごとに国分寺や国分尼寺が建てられた。
 ウ 争乱によって焼失した東大寺が再建され、宋の建築様式を取り入れて南大門が建てられた。
 エ 浄土信仰が貴族や地方の人々に広まり、阿弥陀仏の像を納めた平等院鳳凰堂が建てられた。
- 下線部③について、中世に起きた戦乱について述べた次のア～ウの文を、起こった年代の古い順に並べかえ、記号で答えなさい。
 ア 足利尊氏が新たな天皇を立てたことで京都と吉野に二つの朝廷が生まれ、内乱が起きた。
 イ 朝廷の勢力を回復させるため兵をあげた後鳥羽上皇が、幕府軍に敗れて隠岐に流された。
 ウ 平氏の政治に対する不満から源氏を中心とする諸国の武士が兵をあげ、平氏を滅ぼした。
- 下線部④について、中世の地方都市や農村のようすについて述べた文として、誤っているものを、次のア～エから1つ選び、記号で答えなさい。
 ア 五人組がつけられ農民は連帯責任を負った。 イ 同業者で座をつくり寺社の保護を受けた。
 ウ 農村に惣がつけられ村を自治的に運営した。 エ 町衆が中心となり町ごとの団結を強めた。
- 近世の日本の社会のようすと文学について、次の(1)、(2)の問いに答えなさい。
 (1) , にあてはまる人物の組み合わせとして、正しいものを、次のア～エから1つ選び、記号で答えなさい。
 ア a - 十返舎一九 b - 井原西鶴 イ a - 滝沢馬琴 b - 近松門左衛門
 ウ a - 近松門左衛門 b - 滝沢馬琴 エ a - 井原西鶴 b - 十返舎一九
 (2) 和也さんは、書物問屋が本屋仲間といわれる株仲間をつくり、江戸幕府の公認を受けて活動していたことを知り、資料A、Bを作成しました。本屋仲間の公認は、江戸幕府と本屋仲間のそれぞれにとって、どのような利点があったと考えられるか、資料A、Bを参考にして、簡潔に述べなさい。

資料A 江戸時代における書物を出版する際の手続き	資料B 1722(享保7)年の出版条目の一部
<div style="border: 1px solid black; padding: 5px;"> <p>出版者 原稿と出版許可願を本屋仲間に提出する。</p> <p>↓</p> <p>本屋仲間 行事が原稿を調査し、仲間で出版の可否を審議する。 <調査・審議内容> ・出版条目に違反していないか。 ・すでに出版されている書物と同じ、あるいはよく似たものを無断で使用していないか。</p> <p>↓</p> <p>町奉行所 調査・審議内容の報告を受け、出版を許可する。</p> </div> <p>(注) 行事とは、本屋仲間の世話人のこと、出版条目は、江戸時代に幕府が出した出版に関する法令のことである。</p>	<div style="border: 1px solid black; padding: 5px;"> <p>○ 新版の書物には、作者と版元の実名を明記すること。</p> <p>○ 徳川家康や幕府に関することは、一切書いてはならない。事情がある場合は、奉行所に申し出て許可を受けること。</p> <p>(注) 版元とは、出版元となる書物問屋などのことである。</p> </div> <p>(資料A、Bともに「江戸の本屋さん」などより作成)</p>

第三問 企業の役割と労働者の権利について、資料Aを読み、あとの1～5の問いに答えなさい。

資料A 企業の役割と労働者の権利

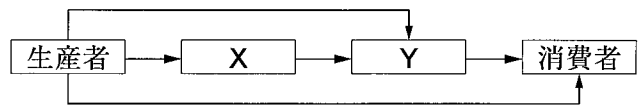
企業のおもな役割は、私たちの生活に必要な財やサービスなどの①商品を生産することです。②働くことで企業から賃金を得る労働者は、企業に対して弱い立場にあり、③労働者の権利を守るため、長い年月をかけて④法律の整備が進められてきました。現代の企業には、商品を生産し利潤を追求するだけでなく、さまざまな⑤社会的責任を果たすことも求められています。

1 下線部①について、次の(1)、(2)の問いに答えなさい。

(1) 資料Bは、商品が消費者に届くまでの流れを模式的に示したものです。 , にあてはまる語句の組み合わせとして、最も適切なものを、次のア～エから1つ選び、記号で答えなさい。

- ア X - 金融機関 Y - 小売業者
- イ X - 小売業者 Y - 卸売業者
- ウ X - 卸売業者 Y - 金融機関
- エ X - 卸売業者 Y - 小売業者

資料B 商品が消費者に届くまで



(2) 企業が生産した商品の欠陥により消費者が被害を受けた場合、消費者は、企業の過失を証明できなくても、損害賠償を求めることができます。このことを定めた法律名を書きなさい。

2 下線部②について、日本国憲法に定められている、自分で職業を選んだり、職業を営んだりすることを保障する権利を、次のア～エから1つ選び、記号で答えなさい。

- ア 自己決定権 イ 自由権 ウ 勤労の権利 エ 平等権

3 下線部③について、労働者の権利の確立にかかわりの深いことがらとして、最も適切なものを、次のア～エから1つ選び、記号で答えなさい。

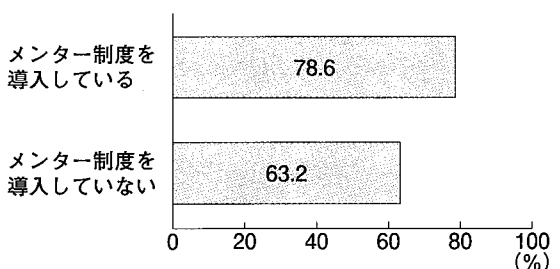
- ア 日本で国会を開議するための準備が進められ、大日本帝国憲法が公布された。
- イ 共和国となったドイツで憲法制定会議が開かれ、ワイマール憲法が制定された。
- ウ 国王や貴族中心の政治に不満をもつ市民がフランス革命を起こし、人権宣言が発表された。
- エ イギリスの支配に反対する北アメリカの人々が独立戦争を起こし、独立宣言が発表された。

4 下線部④について、労働者の権利を守るために日本で定められた次のア～ウの法律を、制定された年代の古い順に並べかえ、記号で答えなさい。

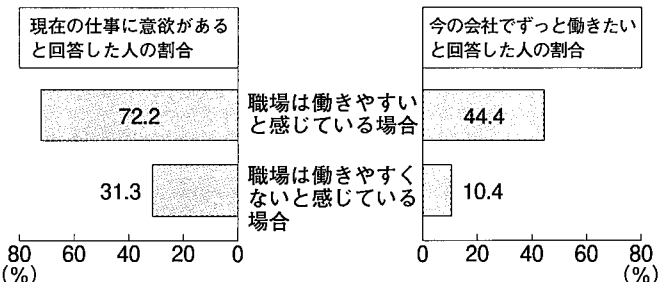
- ア 育児・介護休業法 イ 労働基準法 ウ 男女雇用機会均等法

5 下線部⑤について、職場環境を整備するための取り組みの一つとして、新入社員などの相談役（メンター）に上司以外の先輩社員をあてるメンター制度を導入する企業が増えています。企業が、メンター制度の導入を通して職場環境を整備することは、企業に求められている社会的責任のうち、どのような責任を果たすことにつながると考えられるか、資料C、Dを参考にして、簡潔に述べなさい。

資料C 働きやすいと感じる社員の割合（2014年）



資料D 職場の働きやすさによる社員の意識の比較（2014年）



(資料C、Dともに「働きやすい・働きがいのある職場づくりに関する調査報告書」より作成)

第四問 次の文は、同じクラスのさとしさんとかおりさんの会話です。これを読んで、あとの1～3の問いに答えなさい。

さとし：社会科の課題研究は、日本の中央部にある4つの県について調べることにしたよ。
 かおり：どの県について調べる予定なの。
 さとし：静岡県、愛知県、岐阜県、三重県だよ。この4つの県は、①東海地域とも呼ばれていて、経済的な結びつきが強く、日本の近代工業が発展した地域なんだよ。
 かおり：たしか、静岡県には②世界文化遺産に指定された反射炉があったよね。
 さとし：今でも東海地域は③工業がさかんだから、調べてみたらおもしろいと思うんだ。
 かおり：そうだね。どんな課題研究になるか、楽しみだね。

1 下線部①について、さとしさんは、東海地域の略地図を用意し、資料A、Bを作成しました。あとの(1)～(3)の問いに答えなさい。

略地図

資料A 地形別面積 (km²)

	山地	丘陵地	台地	低地	その他
愛知	2,134	635	940	1,148	278
X	3,704	428	565	1,031	38
Y	5,650	443	325	1,155	204
Z	8,258	933	208	1,174	23

(「第65回 日本統計年鑑」より作成)

資料B 県別農業産出額の内訳 (2016年)

愛知	3,154億円	木	野菜	畜産	その他
X	1,107億円				
Y	2,266億円				
Z	1,164億円				

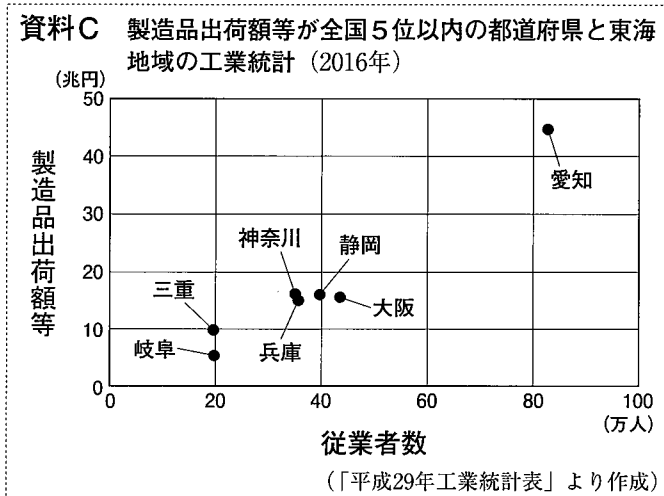
(「データでみる県勢第28版」より作成)

- (1) 東海地域にある平野のうち、岐阜県から愛知県や三重県に広がる平野名を書きなさい。
- (2) 資料A、B中に共通する X ~ Z に入る県名の組み合わせとして、正しいものを、次のア～カから1つ選び、記号で答えなさい。
- | | | | | | | | |
|---|--------|--------|--------|---|--------|--------|--------|
| ア | X - 静岡 | Y - 岐阜 | Z - 三重 | イ | X - 静岡 | Y - 三重 | Z - 岐阜 |
| ウ | X - 岐阜 | Y - 三重 | Z - 静岡 | エ | X - 岐阜 | Y - 静岡 | Z - 三重 |
| オ | X - 三重 | Y - 静岡 | Z - 岐阜 | カ | X - 三重 | Y - 岐阜 | Z - 静岡 |
- (3) 東海地域にある2つの湾と、産業のようすについて述べた文の組み合わせとして、最も適切なものを、次のア～エから1つ選び、記号で答えなさい。
- ア 駿河湾 - リアス海岸の入り江を利用して、真珠の生産がさかんに行われている。
 イ 伊勢湾 - 森林資源を生かして、パルプやピアノの生産がさかんに行われている。
 ウ 駿河湾 - コンピュータで使うIC(集積回路)の生産がさかんに行われている。
 エ 伊勢湾 - 大規模な製鉄所が立ち並び、工業原料の生産がさかんに行われている。

2 下線部②について、静岡県にある^{にらやま}韮山反射炉は、1857(安政4)年につくられた、鉄を大量に製造するための施設です。このような施設が建設されるきっかけとなったことがらとして、最も適切なものを、次のア～エから1つ選び、記号で答えなさい。

ア ペリーが浦賀に来航し日本に開国を迫った。 イ 東廻り航路や西廻り航路が開かれた。
 ウ 備中ぐわや千歯こきなどの農具が普及した。 エ 官営の八幡製鉄所が操業を開始した。

3 下線部③について、さとしさんは、東海地域の工業について調べを進めるなかで、製造品出荷額等が全国5位以内の都道府県に東海地域の県が含まれていることを知り、資料C、Dを作成しました。あとの(1)、(2)の問いに答えなさい。



資料D 製造品出荷額が全国5位以内の都道府県と東海地域の工業地価の推移 (千円/㎡)

	2012年	2013年	2014年	2015年	2016年
大阪	79.1	113.5	112.9	110.8	106.7
神奈川	83.7	103.0	104.3	101.7	99.5
愛知	51.0	57.2	56.2	56.0	56.2
兵庫	35.3	50.3	49.4	48.9	48.8
静岡	40.1	49.2	48.4	48.0	47.6
岐阜	20.4	19.9	19.8	20.1	20.0
三重	21.4	20.7	20.2	19.8	19.4

(「都道府県地価調査」より作成)

(1) 資料C、Dから読みとれることとして、正しいものを、次のア～エから1つ選び、記号で答えなさい。

- ア 製造品出荷額等が多い府県ほど、従業員数が多くなり、2016年の工業地価も高くなる。
- イ 製造品出荷額等が最も多い府県は、従業員数が最も多く、工業地価が年々上昇している。
- ウ 2012年と2016年の工業地価を比べると、東海地域は他の府県より価格の変化が小さい。
- エ 東海地域の4つの県のうち3つの県が、製造品出荷額等の全国5位以内の府県に含まれる。

(2) 資料Eは、民間企業の設備投資に対する意向調査と東海地域の将来予想について、さとしさんがまとめたものです。資料E中の下線部④のようにさとしさんが考えた理由を、資料Dと資料E中の調査の結果I、IIをもとに、簡潔に述べなさい。

資料E 民間企業の設備投資に対する意向調査と東海地域の将来予想

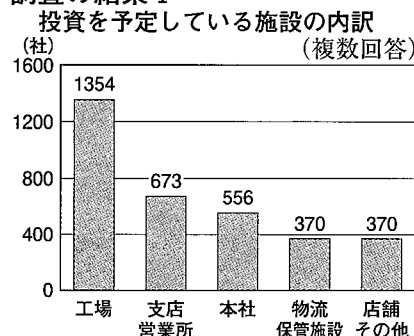
2015年に、新たな拠点や設備を整備する計画や可能性について、民間企業の意向を確認するための調査が行われました。調査対象の民間企業は、一定の経営規模をもつ2,731社です。調査の結果Iは、民間企業が投資を予定している施設の内訳を示すグラフで、調査の結果IIは、調査の結果Iで「工場」を選択した民間企業が工場投資で重視する条件についてまとめたものです。

調査対象の民間企業

地方	社数	地方	社数
北海道	100	近畿	506
東北	140	中国・四国	266
関東	876	九州	223
中部	620		
総計			2,731

(注) 調査対象は、年商規模10億円以上の民間企業である。

調査の結果I



調査の結果II

工場投資で重視する条件上位4つ (複数回答)

重視する条件	社数
1 既存の自社施設の立地状況	567
2 用地の価格	389
3 交通の利便性	359
4 労働力の確保	290

調査対象となった民間企業の4割以上は、中部地方と近畿地方にあります。資料Dと調査の結果I、IIを照らし合わせると、④東海地域の4つの県は、工業の分野で今後も経済規模が拡大する可能性があると考えました。

(調査対象の民間企業、調査の結果I、IIはいずれも「地方創生に関する投資意向調査」より作成)

